

Werkbundel

3^{de} leerjaar

Juf Claire en juf Liesbeth

GETALLENKENNIS

1. Rekentaal

los de volgende opgaven op

- de som van 25 en 53 is
- het product van 7 en 9 is
- vermeerder 86 met 15
- het dubbel van 52 is
- de helft van 42 is
- verminder 69 met 43
- het quotiënt van 72 en 8 is
- 58 plus 33
- 87 min 52
- 6 maal 5

2. Noteer in getallen

- Vierhonderddrieënzestig
- Tweehonderd eenendertig
- Zeshonderdvijftien
- Vierentwintig

- Negenhonderdneegenennegentig
- 3H 6T 2E
- 5H 8T 5E
- 9H 3T 1E
- 1H 0T 7E
- 8H 4T 0E
- 800 40 5
- 400 60 3
- 500 8

3. **Vul de getallenreeksen aan.**

568 570 572

601 605 610 616

125 130 135

..... 426 430 434

..... 953 955 957

4. Kleur het aangegeven gedeelte van de taart.



Kleur $\frac{1}{2}$.



Kleur $\frac{2}{5}$



Kleur $\frac{2}{3}$.



Kleur $\frac{1}{6}$



Kleur $\frac{3}{4}$.



Kleur $\frac{8}{9}$



Kleur $\frac{4}{8}$



Kleur $\frac{7}{7}$



Kleur $\frac{10}{12}$



Kleur $\frac{1}{10}$

BEWERKINGEN

1. Cijferen:

Los volgende oefeningen al cijferend op.

optellen

$652 + 129 =$

$284 + 632 =$

$175 + 268 =$

af trekken

$652 - 129 =$

$514 - 286 =$

$600 - 175 =$

$806 - 397 =$

$964 - 128 =$

$845 - 382 =$

Hoofdrekenen

Maaltafels

$3 \times 6 = \underline{\quad}$

$8 \times 8 = \underline{\quad}$

$8 \times 7 = \underline{\quad}$

$8 \times 5 = \underline{\quad}$

$4 \times 7 = \underline{\quad}$

$4 \times 8 = \underline{\quad}$

$7 \times 9 = \underline{\quad}$

$9 \times 9 = \underline{\quad}$

$8 \times 4 = \underline{\quad}$

$9 \times 6 = \underline{\quad}$

$0 \times 6 = \underline{\quad}$

$4 \times 3 = \underline{\quad}$

$9 \times 3 = \underline{\quad}$

$5 \times 4 = \underline{\quad}$

$10 \times 5 = \underline{\quad}$

$8 \times 10 = \underline{\quad}$

$6 \times 6 = \underline{\quad}$

$3 \times 3 = \underline{\quad}$

$4 \times 9 = \underline{\quad}$

$9 \times 0 = \underline{\quad}$

$4 \times 6 = \underline{\quad}$

$7 \times 8 = \underline{\quad}$

$7 \times 7 = \underline{\quad}$

$2 \times 5 = \underline{\quad}$

$3 \times 7 = \underline{\quad}$

$2 \times 8 = \underline{\quad}$

$6 \times 9 = \underline{\quad}$

$1 \times 9 = \underline{\quad}$

$9 \times 4 = \underline{\quad}$

$10 \times 6 = \underline{\quad}$

$5 \times 6 = \underline{\quad}$

$9 \times 3 = \underline{\quad}$

$4 \times 3 = \underline{\quad}$

$2 \times 4 = \underline{\quad}$

$4 \times 5 = \underline{\quad}$

$7 \times 10 = \underline{\quad}$

$5 \times 6 = \underline{\quad}$

$4 \times 3 = \underline{\quad}$

$3 \times 9 = \underline{\quad}$

$8 \times 0 = \underline{\quad}$

$8 \times 6 = \underline{\quad}$

$3 \times 8 = \underline{\quad}$

$6 \times 7 = \underline{\quad}$

$1 \times 5 = \underline{\quad}$

$8 \times 7 = \underline{\quad}$

$7 \times 8 = \underline{\quad}$

$5 \times 9 = \underline{\quad}$

$10 \times 9 = \underline{\quad}$

$9 \times 4 = \underline{\quad}$

$6 \times 6 = \underline{\quad}$

$4 \times 6 = \underline{\quad}$

$0 \times 3 = \underline{\quad}$

$8 \times 3 = \underline{\quad}$

$8 \times 4 = \underline{\quad}$

$3 \times 5 = \underline{\quad}$

$9 \times 10 = \underline{\quad}$

$4 \times 6 = \underline{\quad}$

$7 \times 3 = \underline{\quad}$

$2 \times 9 = \underline{\quad}$

$8 \times 0 = \underline{\quad}$

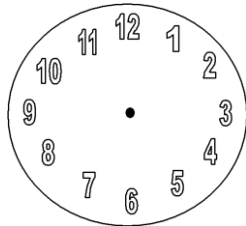
METEN EN METEND REKENEN

1. Kloklezen:

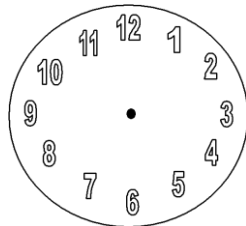
- Teken de wijzers in de klok op de juiste plaats.

let op: de grote wijzer wijst naar het uur, de kleine wijzer wijst naar de minuten!!!!!!

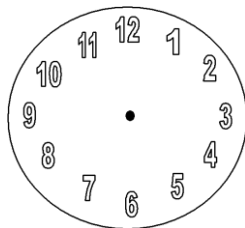
a) Het is half negen.



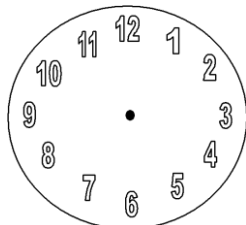
b) Het is kwart over één.



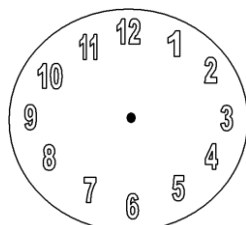
c) Het is kwart voor vijf.



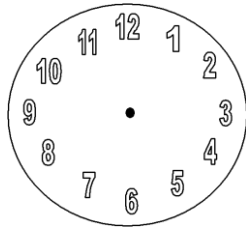
d) Het is half zes.



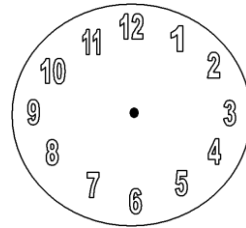
e) Het is zeven uur.





f) Het is tien over 5.



g) het is vijf voor 8



- Schrijf in woorden hoe laat het is.
gebruik de woorden: Uur, kwart over, half, kwart voor....



2. Inhoud:

- Zet een kruisje in de juiste kolom.

	Minder dan één liter	Één liter	Meer dan één liter
Grote fles water			
Een emmer			
Een soeplepel			
Een zwembad			
Een bad			
Klein flesje cola			

- Vul in, kies uit de woorden uit het kader.








één liter, halve liter, twee liter.

Als ik twee flessen heb van één liter dan heb ik samen.....

Ik heb een fles van één liter, de helft is er al uit. Er zit nu nog een in.




Betalen:

- Hoe kun je betalen? Zet een kruisje in de kolom met het biljet of muntstuk dat je nodig hebt.

								
eend	€ 8,25							
vlieger	€ 3,75							

teddybeer	€ 7,50							
plant	€ 5,80							
krant	€ 2,80							
taart	€ 6,20							
broek	€ 9,40							
emmer	€ 4,90							

- Lees af en noteer, hoeveel euro ligt er hier?

			eurocent
			eurocent
			eurocent



- Teken de juiste muntstukken en briefjes.

3 euro en 26 cent

.....

29 euro en 58 cent

.....

287 euro

.....

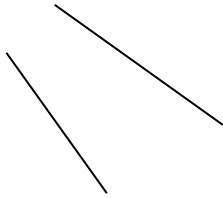
4. Gewicht

- Zet een kruisje in de juiste kolom

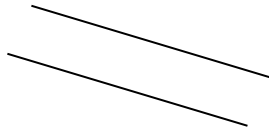
	meer dan 1 kg	evenveel als 1 kg	minder dan 1 kg
balpen			
meetlat			
kaft			
Een paar schoenen			
5 bladen papier			
Een vol pak bloem			
vuilbak			
Je boekentas			

MEETKUNDE

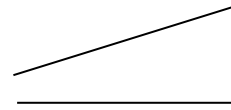
1. Zijn deze rechten evenwijdig of niet? Kruis aan.



- evenwijdig
 niet evenwijdig

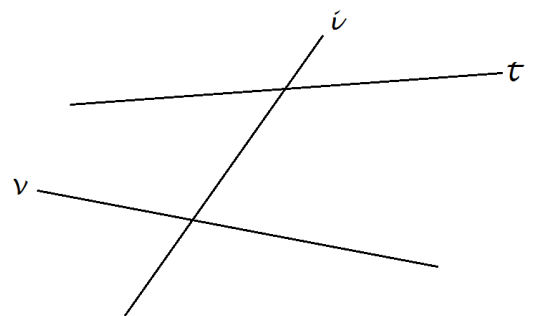
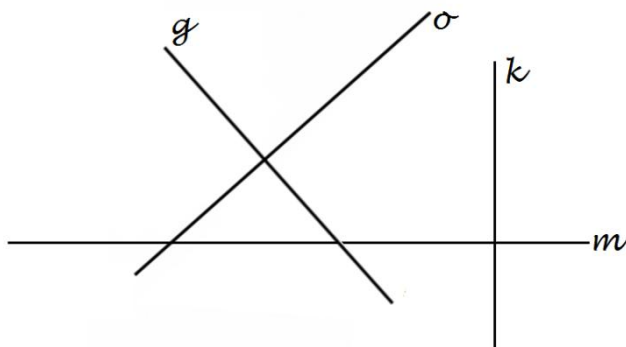
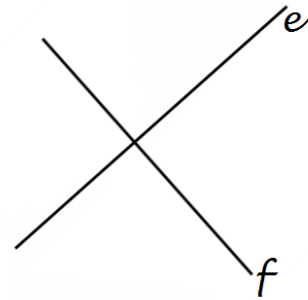
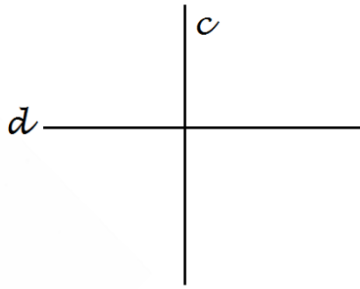
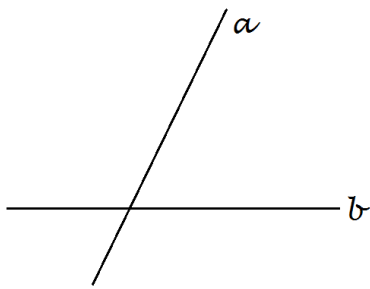


- evenwijdig
 niet evenwijdig



- evenwijdig
 niet evenwijdig


Overtrek de rechten die loodrecht op elkaar staan in dezelfde kleur. Gebruik de rechte hoek van je geodriehoek.



2. Vlakke figuren

- Zet de vlakke figuren in het juiste vakje.

Vlakke figuren	
Veelhoeken	Niet- veelhoeken



SPELLING

1. Maak van de volgende woorden een meervoud.

Enkelvoud	Meervoud	Enkelvoud	Meervoud
tas		doos	
dak		ballon	
boek		stuur	
muur		jas	
schoen		kat	
fiets		boom	
bel		weg	
kip		bord	
droom		kom	
spel		brood	

2. Hieronder staat een tekstje. Er staan telkens twee woorden schuin gedrukt.

Eén van de twee is juist. Omcirkel het juiste antwoord.

Praat niet met vole - volle mond. Dat is niet leuk voor wie tegenover - teggenover je zit.

Wipen - wippen en springen - springgen op je stoel hoort ook niet echt.

Eet niet met je vinngers - vingers.

Steun niet met je elebogen - ellebogen op de taffel - tafel. Dat is niet echt beleefd.

Laat iedereen om de beurt pratten - praten. Schreeuw niet door elkaar heen.

Ga mooi rechtop zitten - zitten. Zo verteert je eten - etten ook veel beter - better.

Een tafel is geen bed! Ga er dus ook niet op ligen - liggen.

3. **Zoek** de fouten en **verbeter** ze.

1. De borden zijn gevallen.

.....

2. Soms laat ik kaarsen branden.

.....

3. Het zijn drukke dagen.

.....

4. De paarden lopen in de wei.

.....

5. De leppels en de vorken liggen al op de taffel.

.....

TAALBESCHOUWING

1. Vraagzinnen maken

Maak een vraagzin met vraagwoorden.

Waar _____?

Wie _____?

Waarom _____?

Wat _____?

Welk _____?

2. Woorden overschrijven

Fantastisch	
Ochtend	
Vakantie	
Verpletteren	
Uitsterven	

3. Een zin kunnen maken met een woord

Maak een zin met:

Rug: _____

Afwas: _____

Zon: _____

Geweldig: _____

Verwarming: _____

5. Een woord kunnen invullen in een zin

Ik geef de meester een _____ op zijn vraag.

Mijn zus moet vandaag de hond _____.

De baas moet een plan _____ om het probleem op te lossen.

De _____ brengt de brieven rond.

Je bent _____ ! Je hebt me goed geholpen.

6. Bij een beschrijving het juiste woord plaatsen

Je hebt geen school en het is geen weekend.	_____
Je zet het aan als je het binnen koud hebt.	_____
Dieren die je thuis kan houden.	_____

7. Tegenstellingen kennen. Bijvoorbeeld: mooi → lelijk

Dun	
groot	
ochtend	
laag	
traag	

8. Samenstellingen maken (bijvoorbeeld: kikker + vis = kikkervis)

Kan jij de 5 samenstellingen vinden?

Huis - af- knuffel - beren - ijs

beer - beer - koekjes- dier - was

_____	_____	_____
_____	_____	/

KARREWIET

Bekijk de aflevering van 14 maart 2020 en beantwoord de vragen.

<https://www.ketnet.be/kijken/karrewiet-14-maart-2020>

1. Hoe heet het virus ook weer dat er voor zorgt dat de lessen op school tijdelijk niet doorgaan?

.....

2. Hoelang worden er (voorlopig) geen lessen gegeven op school?
 3 dagen
 3 weken
 3 maanden

3. Oma en opa bezoeken, is nu geen goed idee! Wat kan je doen om toch contact met hen te hebben?

.....

4. Wanneer het virus stopt, weet men niet helemaal zeker. Wanneer denkt "Marc Van Ranst" dat het gaat stoppen?

.....

5. Wat werd er afgelast voor de zesdejaars van "Basisschool Kinderkoppen" uit Vilvoorde?

.....

6. Hoeveel hadden zij reeds op voorhand betaald?

120 euro

240 euro

360 euro

7. Max en zijn familie zitten in "quarantaine". Naar welk land zijn zij tijdens de krokusvakantie op reis geweest?

China

Italië

Frankrijk

8. Hoe krijgt Max les?

.....

9. Op het einde van dat filmpje zag je welk huisdier Max heeft! Welk huisdier is dat?

Een hond

Een kat

Een konijn

10. Ben je ongerust over het virus, praat er dan over met je ouders of iemand die je vertrouwt! Je kan ook bellen naar het nummer 102... bij wie of wat kom je dan terecht?

Awel

Ketnet

Marc Van Ranst

Bekijk de aflevering van 21 maart 2020 en beantwoord de vragen.

<https://www.ketnet.be/kijken/karrewiet-21-maart-2020>

1. Noem 1 van de "Vlaamse series" waarvan de opnames tijdelijk gestopt zijn!

.....

2. Wat deden enkele meisjes met wc-papier in het eerste filmpje?

Bowlen

Fitnessen

Voetballen

3. Hoeveel rollen wc papier heeft "Jelle" van Karrewiet nog volgens presentatrice "Mariam"?

.....

4. Wat gebeurt er met het EK voetbal 2020?

Dat gaat gewoon door deze zomer

Dat wordt definitief afgelast

Dat wordt uitgesteld tot volgend jaar

5. Hoe heet de huidige bondscoach van de "Rode Duivels"?

Georges Leekens

Roberto Martinez

Marc Wilmots

6. Wat gebeurt er als je water met olijfolie mengt?

Water vormt een laagje bovenaan en olijfolie blijft onderaan

Water en olijfolie vermengen zich goed

Olijfolie vormt een laagje bovenaan en water blijft onderaan

7. Sinds vorige week zijn er strengere regels tegen de verspreiding van het "Coronavirus"! Geef 2 voorbeelden van wat nog wel mag!

.....

8. Als je dit "Coronavirus" gehad hebt en je bent genezen, kan je het dan nog eens krijgen ?

.....

9. Acteur "Johny Voners" overleed vorige week op 74-jarige leeftijd. Van welke rol kennen we hem het beste?

Xavier uit "FC De Kampioenen"

Marc uit "FC De Kampioenen"

Balthasar uit "FC De Kampioenen"

10. In deze rare tijd vervelen we ons wel eens. Geef 1 tip die "Ketnet-psychologe Telidja" ons gaf in het laatste filmpje om verveling tegen te gaan!

.....